

地理 クイズ ～オンライン授業で小テストを実施～


ESRIジャパン株式会社



はじめに

- クイズは全部で8問あります。
- QRコードもしくは、下記URLより回答願います。

QRコードを読み取れない方はこちら
<https://arcg.is/8j1SK>



【問1】 Esriは何の略でしょうか？

1. Environmental Systems Research Institute
2. Earth Science Research Institute
3. Environmental Science Research Institute
4. Earth Systems Research Institute



【問1】 ESRIの何の略でしょうか

- ①. **Environmental Systems Research Institute**
2. **Earth Science Research Institute**
3. **Environmental Science Research Institute**
4. **Earth System Research Institute**



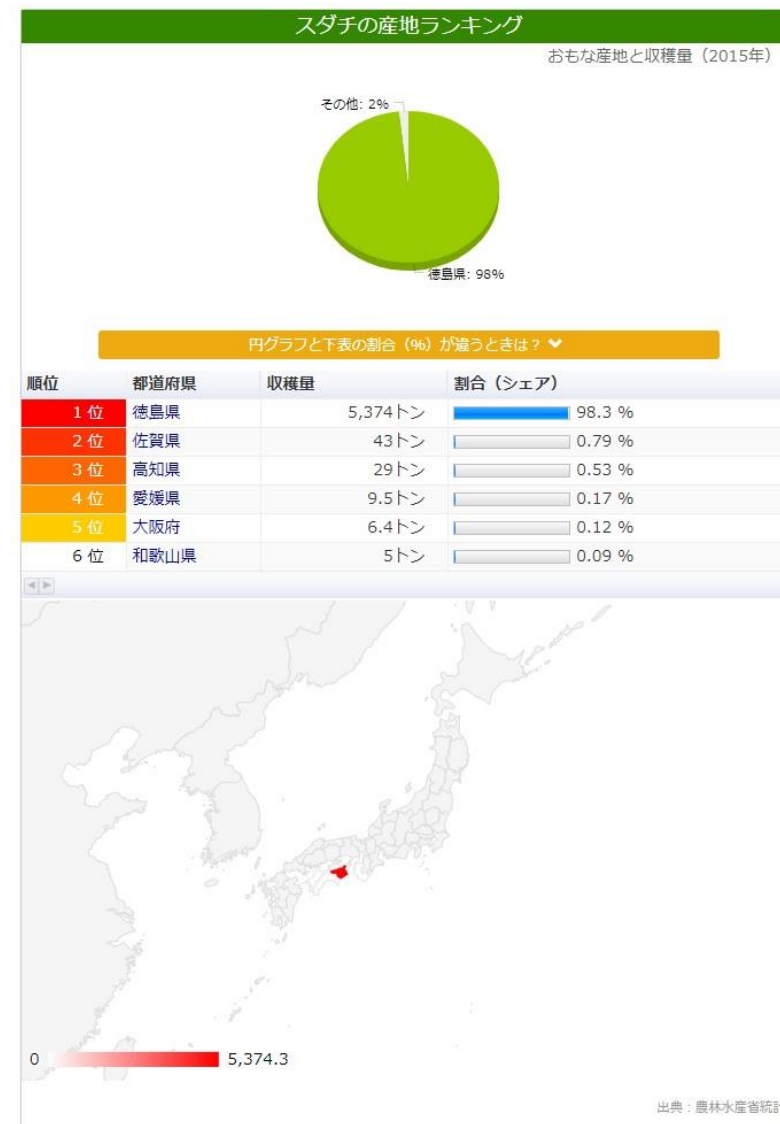
【問2】 酢橘(すだち) 生産量 国内 第2位はどこの都道府県？ 第1位は徳島県

1. 高知県
2. 佐賀県
3. 大阪府
4. 愛媛県



【問2】 酢橘 生産量 国内 第2位はどこの都道府県？

1. 高知県
2. 佐賀県
3. 大阪府
4. 愛媛県



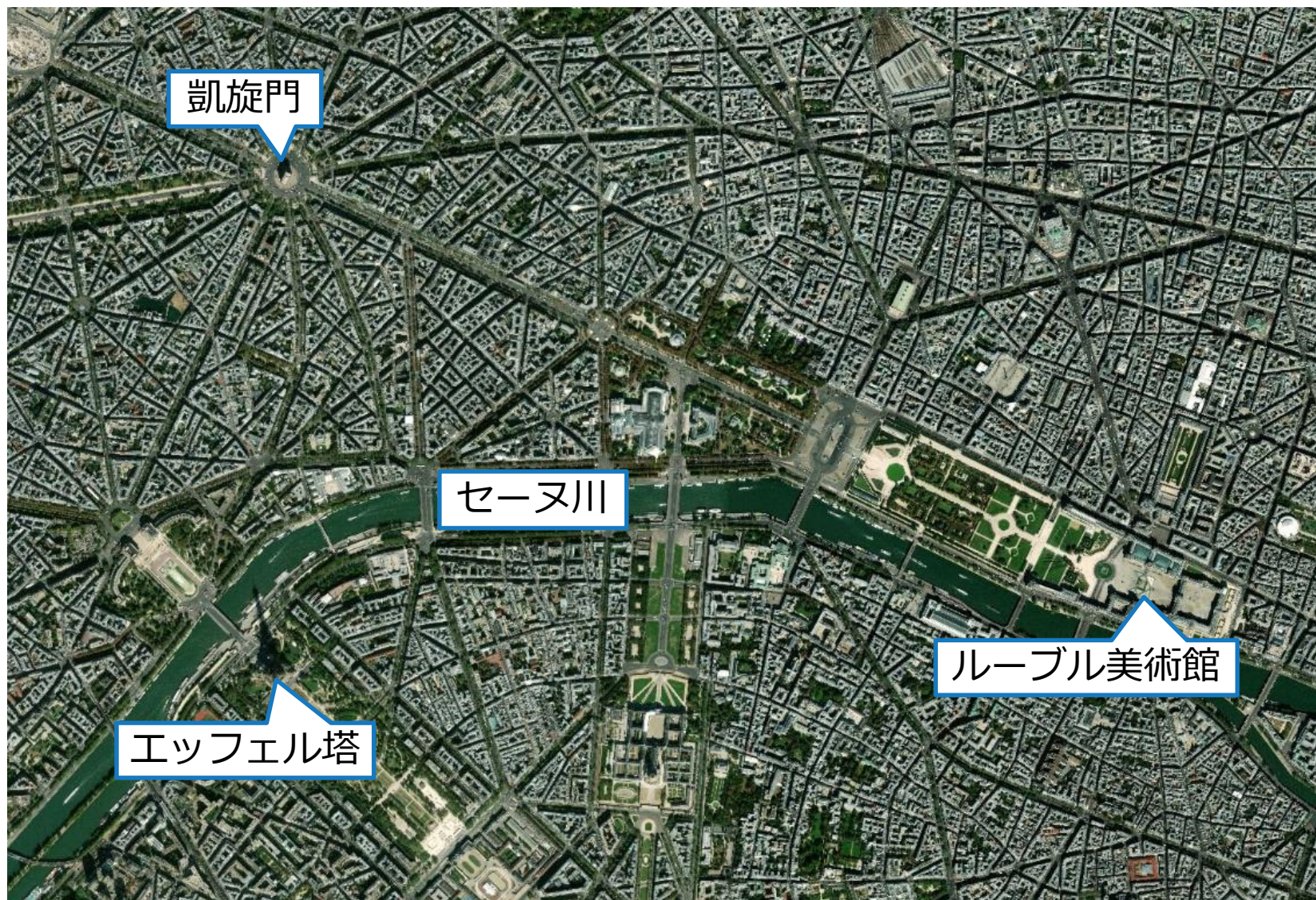
【問3】 この衛星画像はどこの都市？



1. ロンドン
2. ウィーン
3. 上海
4. パリ

Source: Esri, DigitalGlobe, GeoEye, Earthstar Geographics, CNES/Airbus DS, USDA, USGS, AeroGRID, IGN, and the GIS User Community

【問3】 この衛星画像はどこの都市？



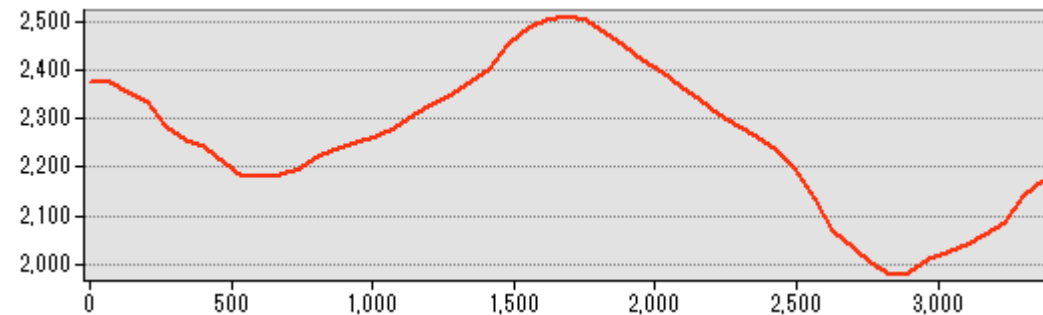
1. ロンドン
2. ウィーン
3. 上海
- ④. パリ

Source: Esri, DigitalGlobe, GeoEye, Earthstar Geographics, CNES/Airbus DS, USDA, USGS, AeroGRID, IGN, and the GIS User Community

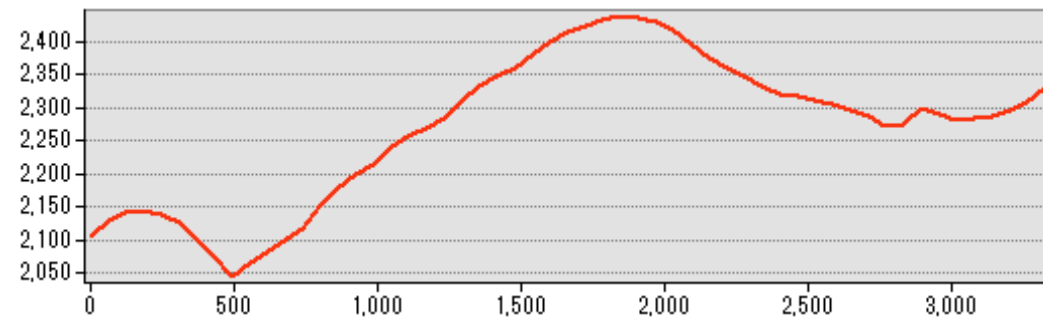
【問4】 A地点からB地点に引いた線の断面図はどれですか？



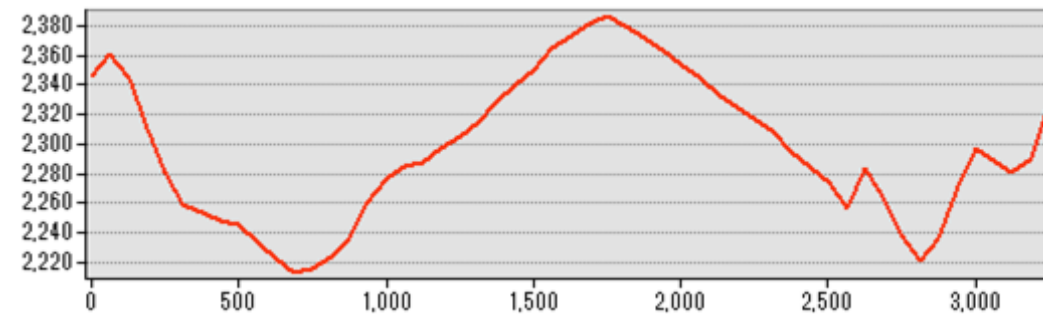
1



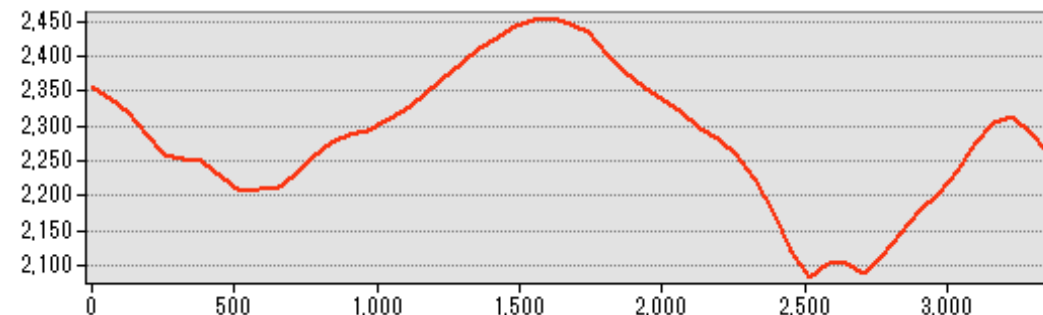
2



3



4

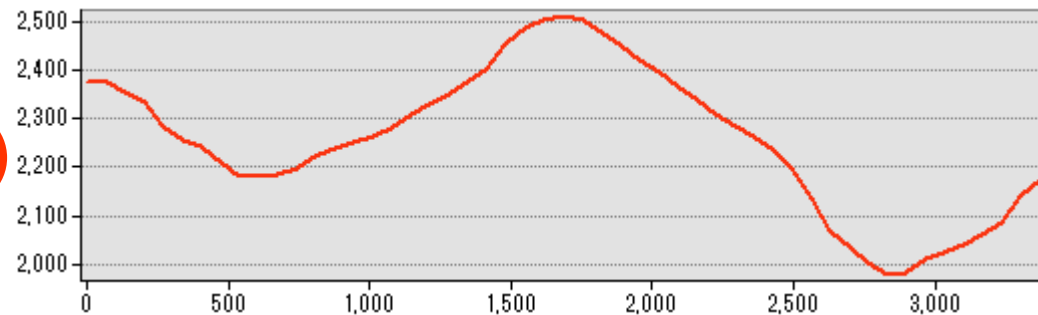


【問4】 A地点からB地点に引いた線の断面図はどれですか？

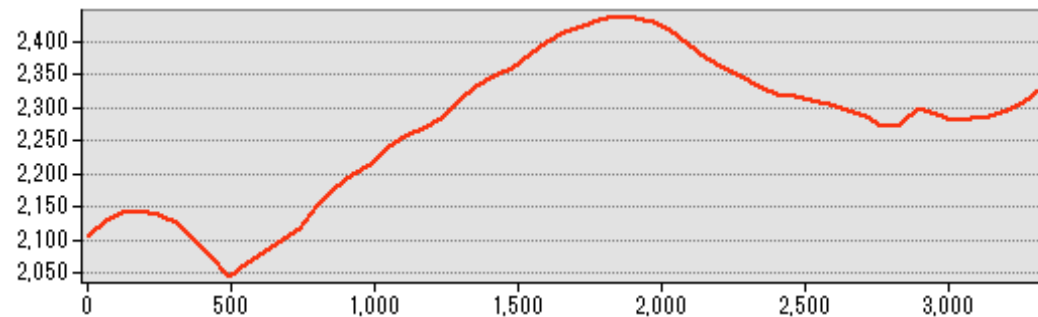


等高線とグラフを見比べる

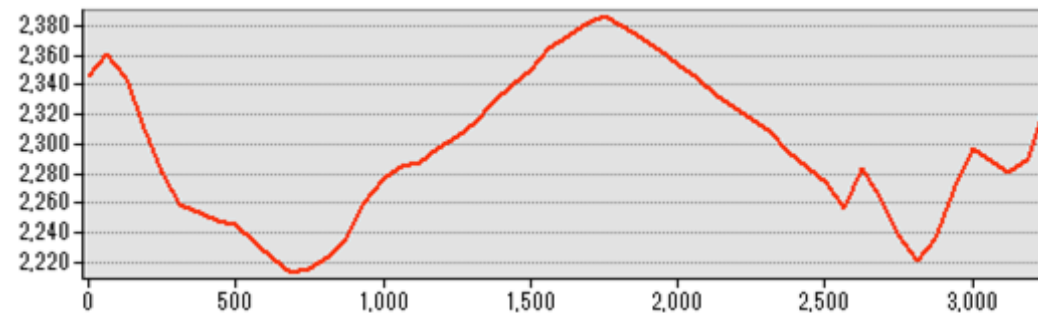
①



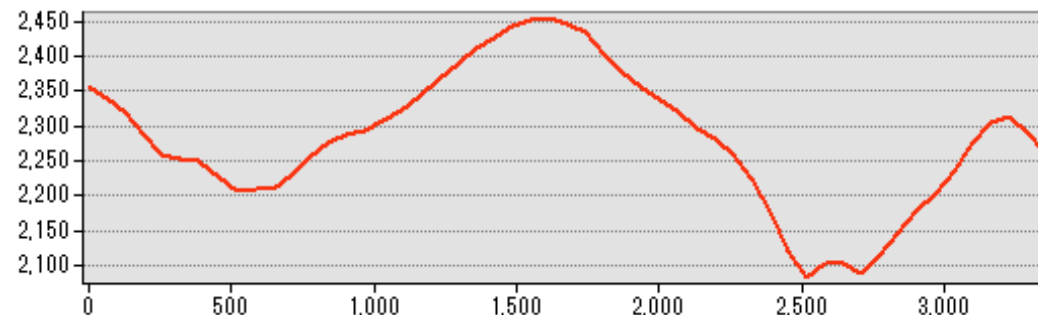
②



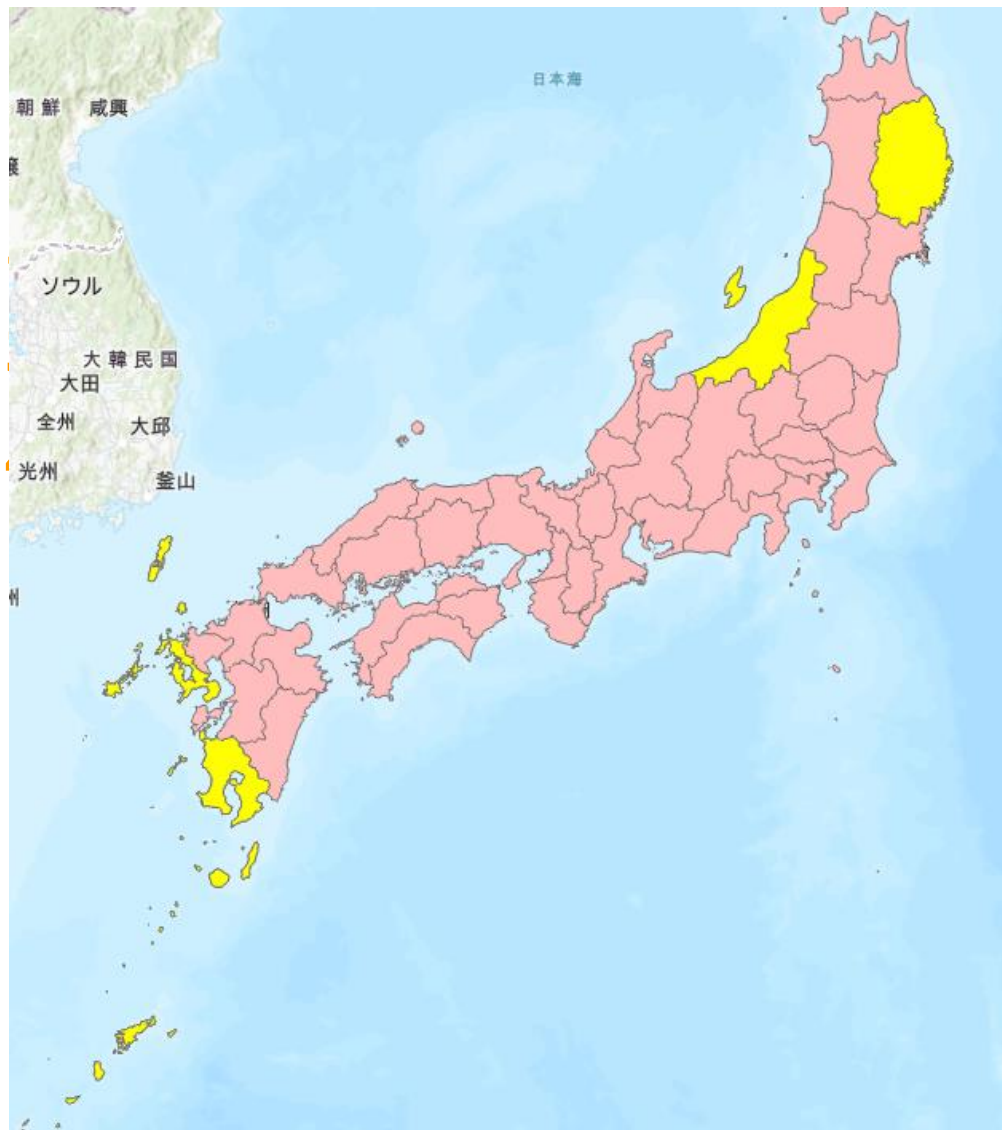
③



④

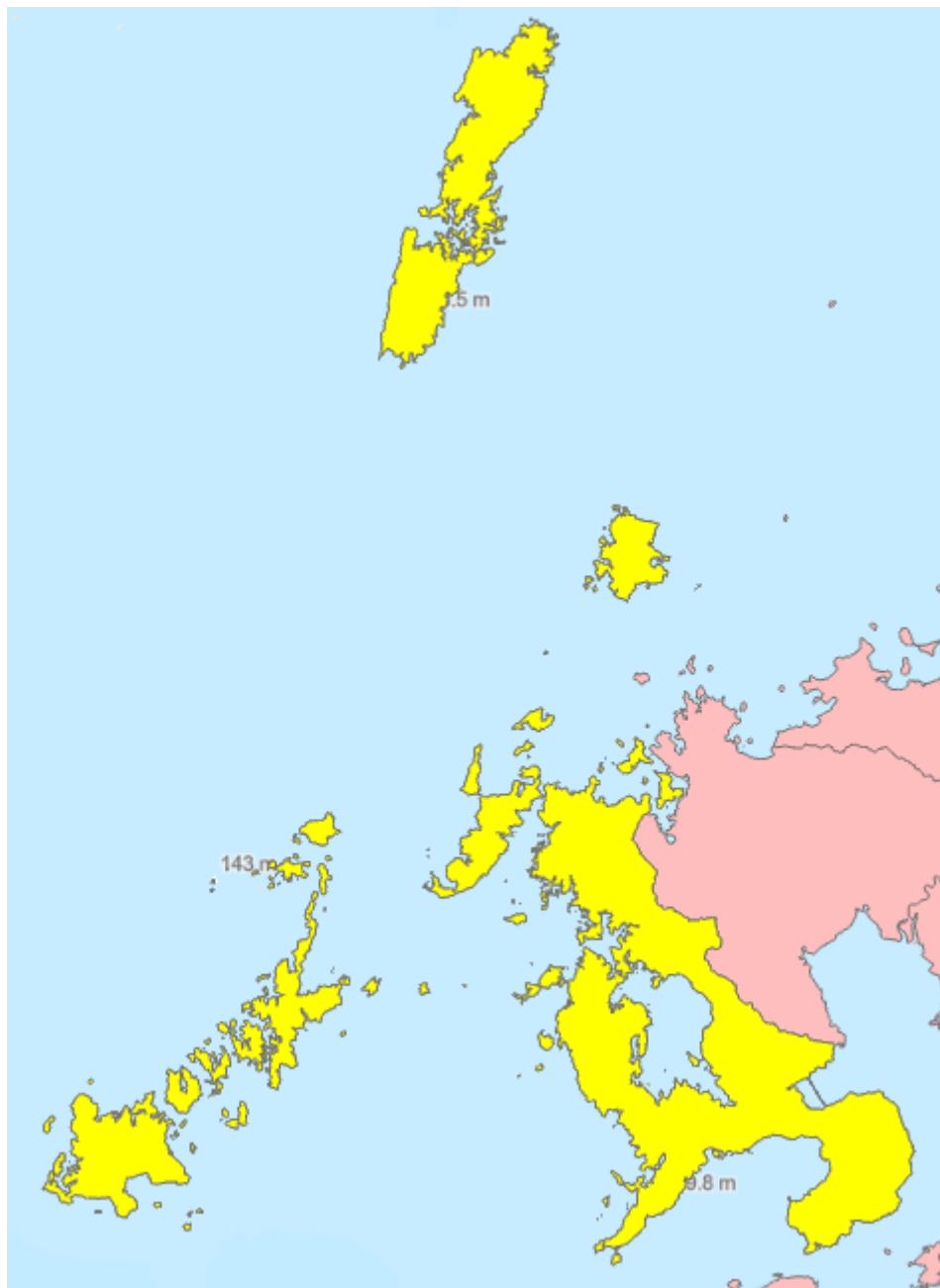


【問5】 周囲長が2番目に長い都道府県は？（1位は北海道）



【問5】 周囲長が2番目に 長い都道府県は？ (1位は北海道)

1. 岩手県 (14位)
2. 新潟県 (12位)
- ③ 長崎県 (2位)
4. 鹿児島県 (3位)



【問6-1】 こちらの地理院地図Vectorの「山名」を記憶してください。

地理院地図Vector
(試験公開)

例：国土地理院 / つくば市北郷 / 36度0分0秒 140度0分0秒 / 36.00 140.00 / 54SUE83694920

おすすめの地図



②は若干初期表示は遅いが、道路の立体交差を表現

詳細

表示中の地図

地図や写真を追加

- 海域名
- 湾・海峡
- 海底地形名
- 諸島・群島・列島名
- 島名
- 湖沼名
- 河川名
- 半島名
- 岬・岬名
- 山名
- 山地名、山脈名、平原名
- 記号
- 境界
- 道路



50km

【問6-2】 「」 赤枠にあった山名は何でしょうか？

地理院地図Vector (試験公開) 例：国土地理院 / つくば市北郷 / 36度0分0秒 140度0分0秒 / 36.00 140.00 / 54SUE83694920

おすすめの地図

- 標準地図
- 淡色地図
- 白地図
- 写真
- 写真+注記
- 大ざい文字
- 標準地図②
- 淡色地図②
- 白地図②

②は若干初期表示は遅いが、道路の立体交差を表現

▼ 詳細

表示中の地図

- 海域名
- 湾・海峡
- 海底地形名
- 諸島・群島・列島名
- 島名
- 湖沼名
- 河川名
- 半島名
- 岬・崎名
- 山名
- 山地名、山脈名、平原名
- 記号
- 境界
- 道路

地図や写真を追加

1917

2236

1626

1841

2105

2035

2356

2456

2932

3015

2160

2568

3180

3026

2899

2702

3067

2055

2967

3121

3776

1729

1510

1595

1809

1955

1982

50km

1. 石鎚山
2. 乗鞍岳
3. 大山
4. 蔵王山

【問6】 「」 赤枠にあった山名は何でしょうか？

地理院地図Vector (試験公開) 例：国土地理院 / つくば市北郷 / 36度0分0秒 140度0分0秒 / 36.00 140.00 / 54SUE83694920

おすすめの地図

- 標準地図
- 淡色地図
- 白地図
- 写真
- 写真+注記
- 大ざい文字
- 標準地図②
- 淡色地図②
- 白地図②

②は若干初期表示は遅いが、道路の立体交差を表現

表示中の地図

- 海域名
- 湾・海峡
- 海底地形名
- 諸島・群島・列島名
- 島名
- 湖沼名
- 河川名
- 半島名
- 岬・崎名
- 山名
- 山地名、山脈名、平原名
- 記号
- 境界
- 道路

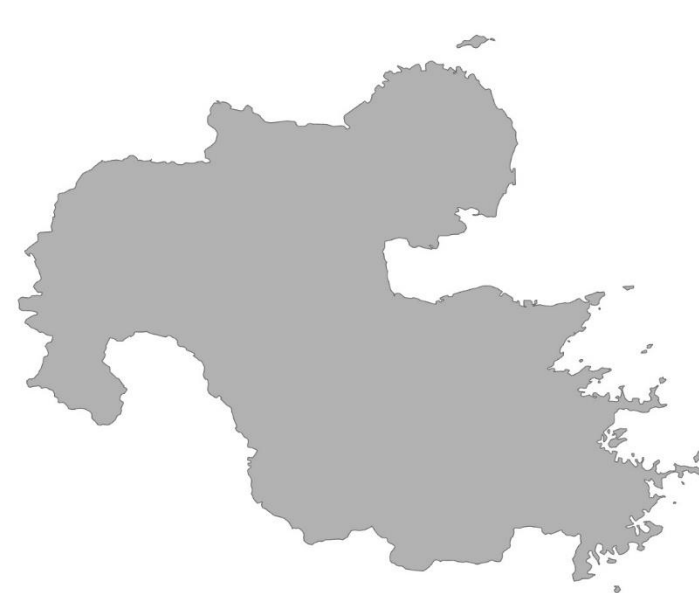
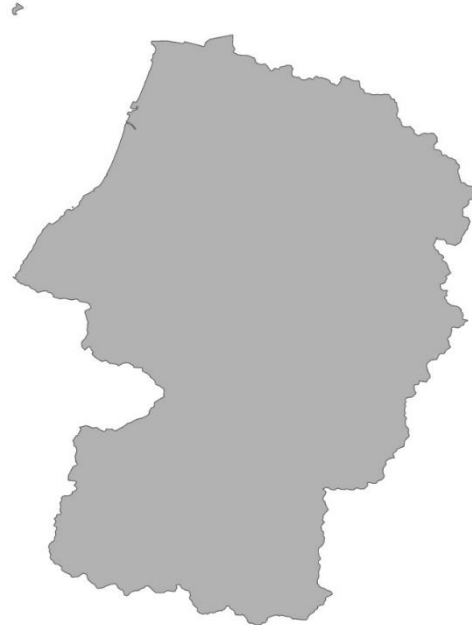
地図や写真を追加

50km

- ① 石鎚山
2. 乗鞍岳
3. 大山
4. 蔵王山

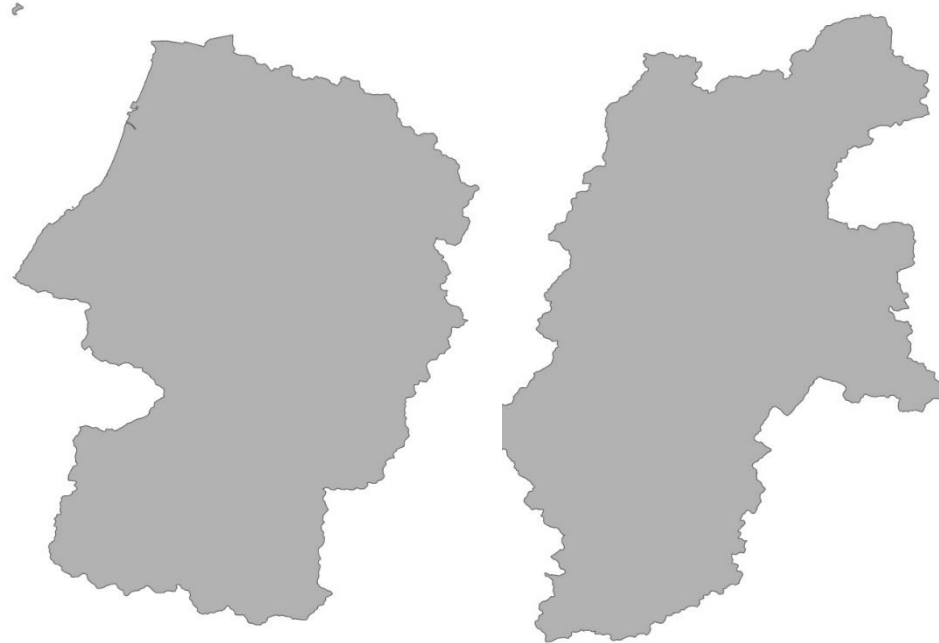
【問7】 下記図の都道府県はどこでしょうか？

1. 群馬県、岡山県、山形県、神奈川県
2. 岡山県、山形県、長野県、大分県
3. 岡山県、山形県、滋賀県、福岡県
4. 広島県、秋田県、滋賀県、大分県



【問7】 下記図の都道府県はどこでしょうか？

1. 群馬県、岡山県、山形県、神奈川県
- ② 岡山県、山形県、長野県、大分県
3. 岡山県、山形県、滋賀県、福岡県
4. 広島県、秋田県、滋賀県、大分県



【問8】 ワイン生産量1位の都道府県はどこ？

1. 北海道
2. 長野県
3. 神奈川県
4. 山梨県

ワインの基礎知識

【白ワイン】 白ブドウなどが原料。発酵には果汁のみを使用する。酸味の強いものは、一般的に魚料理に合うとされる。

【赤ワイン】 黒ブドウや赤ブドウが原料。果実を丸ごとアルコール発酵させる。肉料理に合うとされている。

【ロゼワイン】 製法に、果皮の色の薄いブドウを赤ワインのように製造する方法や赤ワインと同じブドウを白ワイン のように醸造する方法、赤と白の双方のブドウによる混醸、赤ワインの醸造途中で色の元である果皮を取り除くなど 様々ある。

醸造の仕方で、味わいも風味も様々である。

【問8】 ワイン生産量1位の都道府県はどこ？

1. 北海道
2. 長野県
- ③. 神奈川県
4. 山梨県

○ 果実酒の都道府県ランキング(上位10位)

順位	生産量			出荷量			販売(消費)数量	
		ワイン			ワイン			1人当たり
			日本ワイン			日本ワイン		
1	神奈川	神奈川	山梨	神奈川	神奈川	山梨	東京	東京
2	栃木	栃木	長野	栃木	栃木	長野	神奈川	山梨
3	山梨	山梨	北海道	山梨	山梨	北海道	大阪	京都
4	岡山	長野	山形	岡山	岡山	山形	埼玉	神奈川
5	長野	岡山	岩手	長野	長野	岩手	千葉	大阪
6	北海道	北海道	新潟	大阪	北海道	新潟	北海道	北海道
7	青森	山形	岡山	北海道	千葉	岡山	愛知	長野
8	山形	愛知	宮崎	千葉	静岡	宮崎	兵庫	和歌山
9	千葉	岩手	島根	静岡	山形	京都	福岡	宮城
10	静岡	新潟	兵庫	山形	大阪	栃木	京都	千葉

(注) 1 果実酒のうち、ぶどう(濃縮果汁を含む。)を原料とした果実酒を「ワイン」として表記している。

2 国税庁統計年報書(平成29年度速報値)による果実酒の製成数量(生産量)、課税移出数量(出荷量)及び販売(消費)数量の都道府県別順位である。
ただし、「ワイン」及び「日本ワイン」については、果実酒製造業者実態調査(平成29年度調査分)による。

出典：「国内製造ワインの概況」平成31年2月 国税庁税部酒税課